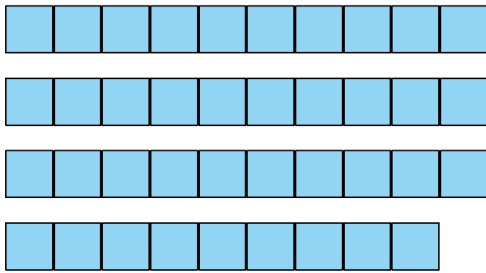
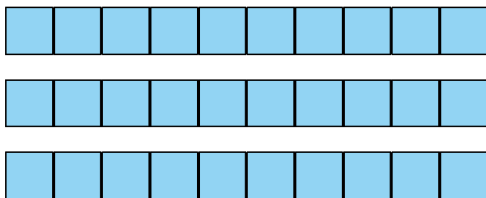


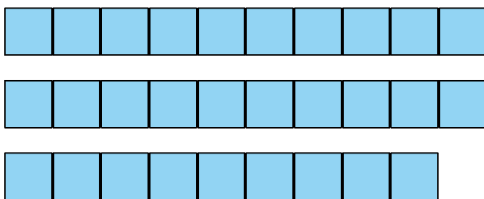
■ Combien y aura-t-il de cubes en tout si j'ajoute 1 cube ?



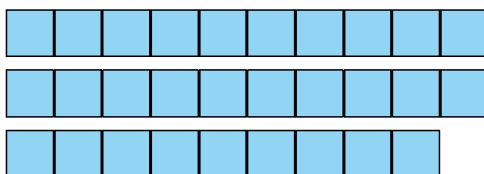
■ Combien y aura-t-il de cubes en tout si j'enlève 1 cube ?



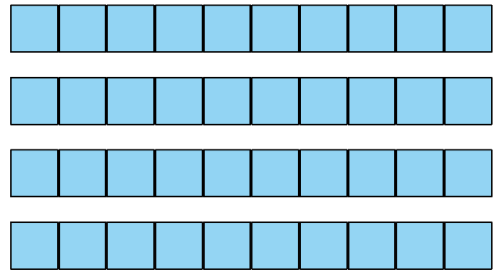
■ Combien y aura-t-il de cubes en tout si j'ajoute 1 cube et 1 dizaine de cubes ?



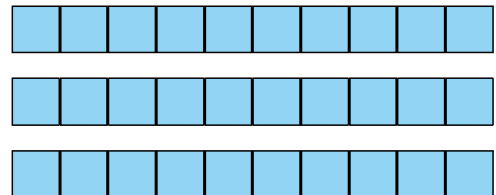
■ Combien y aura-t-il de cubes en tout si j'ajoute 3 dizaines de cubes et 1 cube ?



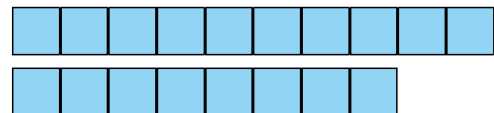
■ Combien y aura-t-il de cubes en tout si j'enlève 1 cube et 1 dizaine de cubes ?



■ Combien y aura-t-il de cubes en tout si j'ajoute 2 dizaines de cubes ?



■ Combien y aura-t-il de cubes en tout si j'ajoute 2 cubes et 1 dizaine de cubes ?



■ Combien y aura-t-il de cubes en tout si j'ajoute 2 dizaines de cubes et 1 cube ?

